

086/X/SA2/12/B1

Class - X
कक्षा - X
SCIENCE
विज्ञान

Time : 3 to 3½ hours
समय : 3 से 3½ घंटे

Maximum Marks : 80
अधिकतम अंक : 80

Total No. of Pages : 15
कुल पृष्ठों की संख्या : 15

General Instructions :

1. The question paper comprises of two sections, **A** and **B**, you are to attempt both the sections.
2. All questions are **compulsory**.
3. There is no overall choice. However, internal choice has been provided in all the three questions of five mark category. Only one option in such question is to be attempted.
4. All questions of section A and all questions of section B are to be attempted separately.
5. Question numbers **1** to **4** in section A are one mark questions. These are to be answered in **one word or one sentence**.
6. Question numbers **5** to **13** are two mark questions, to be answered in about **30 words**.
7. Question numbers **14** to **22** are three mark questions, to be answered in about **50 words**.
8. Question numbers **23** to **25** are five mark questions, to be answered in about **70 words**.
9. Question numbers **26** to **41** in section B are multiple choice questions based on practical skills. Each question is a one mark question. You are to choose one most appropriate response out of the four provided to you.
10. An additional **15** minutes time has been allotted to read this question paper only. Candidates will not write any answer on the answer sheet during this time interval.

सामान्य निर्देश :

1. प्रश्न-पत्र दो भागों में बँटा है, **अ** तथा **ब** में, आपको दोनों भाग करने हैं।
2. सभी प्रश्न **अनिवार्य** हैं।
3. कुल मिलाकर कोई चयन नहीं है। यद्यपि पाँच अंकों की श्रेणी में तीनों प्रश्नों में आन्तरिक चयन दिया है। इन सभी प्रश्नों में केवल एक विकल्प हल करना है।
4. सभी प्रश्न भाग **अ** और सभी प्रश्न भाग **ब** के अलग-अलग हल करने हैं।
5. प्रश्न संख्या **1** से **4** भाग **अ** में एक अंक के प्रश्न हैं। इनका उत्तर **एक शब्द** या **एक वाक्य** में दीजिए।
6. प्रश्न संख्या **5** से **13** दो अंक के प्रश्न हैं, इनका उत्तर लगभग **30 शब्दों** में दीजिए।
7. प्रश्न संख्या **14** से **22** तक तीन अंक के प्रश्न हैं, इनका उत्तर लगभग **50 शब्दों** में दीजिए।
8. प्रश्न संख्या **23** से **25** तक पाँच अंक के प्रश्न हैं, इनका उत्तर लगभग **70 शब्दों** में दीजिए।
9. प्रश्न संख्या **26** से **41** भाग **ब** में बहुविकल्पी प्रश्न हैं जो प्रयोगात्मक कौशल पर आधारित हैं। प्रत्येक प्रश्न एक अंक का है। आपको दिए गए चार विकल्पों में से जो सबसे उपयुक्त विकल्प चुनना है।
10. इस प्रश्न-पत्र को पढ़ने के लिए 15 मिनट का अतिरिक्त समय दिया गया है। इस अवधि में छात्र केवल प्रश्न-पत्र को पढ़ेंगे और वे उत्तर-पुस्तिका पर कोई उत्तर नहीं लिखेंगे।

SECTION - A

1. The flow of energy in the food chain is unidirectional why ? 1
2. Use of paper bags is more environment friendly than the use of polythene bags for packaging. Justify. 1
3. What is the role of pupil in a human eye ? 1
4. Name the functional group present in Propanone, $\text{CH}_3\text{CO CH}_3$ 1
5. (a) How does formation of coal and petroleum occur ? 2
(b) Name any two products formed when fossil fuels are burnt.
6. How can we as an individual help in reducing the use of fossil fuels ? Mention two ways. 2
7. Explain with the help of two examples how the participation of local people has led to conservation of forest in the past. 2
8. State in brief two functions of copper - T used by some women. 2
9. Light enters from air to kerosene having refractive index. 1.47. What is the speed of light in kerosene ? The speed of light in air is 3×10^8 m/s. 2
10. Why do we observe the seven colours when white light passes through a glass prism ? Which component of white light deviates the least ? 2
11. A person needs a lens of power - 0.5 dioptre for correcting his distant vision. For correcting his near vision he needs a lens of power + 1.5 dioptre. What is the focal length of the lens required for correcting his
(i) distant vision, (ii) near vision ? 2
12. Give reasons for the following : 2
(a) Lithium atom is smaller than Sodium atom
(b) Chlorine (Atomic Number 17) is more electronegative than Sulphur (Atomic Number 16)
13. (a) State modern periodic law. 2
(b) State the place of metalloids in the periodic table.

14. The genotype of a plant bearing purple flowers is PP and one with white flowers is pp. 3
When these two are crossed :-
(a) what colour of flowers would you find in F1 progeny ?
(b) Give the percentage of white flower if F1 plants are self pollinated ?
(c) In what ratio would you find the genotype PP and Pp in F2 progeny ?
Draw flow chart in support of you answer.
15. (a) What are fossils ? 3
(b) Are the wings of a butterfly and the wings of a bat analogous organs or homologous organs ? Justify your answer.
16. State the role of father and mother in the determination of sex of new born child. 3
Support your answer with a suitable illustration.
17. (a) Identify the asexual method of reproduction in each of the following organisms: 3
(i) rose (ii) yeast (iii) planaria
(b) What is fragmentation ? Name a multcellular organism which reproduces by this method.
18. A 5 cm tall object is placed perpendicular to the principal axis of a convex lens of focal 3
length 10 cm. The distance of object from the lens is 30 cm.
Find the position and the size of the image formed.
19. A child is able to read his book comfortably but is unable to read the matter written on 3
the blackboard at certain distance.
(a) Name the defect of vision he is suffering from.
(b) With the help of labelled ray diagrams show
(i) The above mentioned defect of vision
(ii) Correction of the above mentioned defect using a suitable lens.
20. (a) Why does a ray of light passing through the centre of curvature of a concave 3
mirror after reflection, is reflected back along the same path ?
(b) Why are convex mirrors commonly used as rear - view mirrors in vehicles ?
(c) A pencil partly immersed in water in a glass tumbler appears to be displaced at the interface of air and water. Name the phenomenon of light responsible for it.
21. Three elements A, B and C have atomic number 7, 8 and 9 respectively. 3
(a) What would be their positions in the modern periodic table (Mention group and period both).
(b) Arrange A, B and C in the decreasing order of their size.
(c) Which one of the three elements is most reactive and why ?
22. (a) Draw the electron dot structure of - 3
(i) C_2H_2
(ii) C_2H_5OH
(b) What are hydrogenation reactions ? Give an example.

23. (a) Differentiate between germination and fertilization. 2+3
(b) State in brief the functions of the following parts of the human male reproductive system :
(i) Scrotum (ii) Testes (iii) Vas deferens

OR

- (a) Differentiate between pollen grain and ovule.
(b) State in brief the functions of the following parts of the human female reproductive system.
(i) Ovary (ii) Fallopian Tube (iii) Uterus

24. A thin converging lens forms a : 2+2+1
(i) Real magnified image
(ii) Virtual magnified image of an object placed in front of it
(a) Write the positions of the objects in each case.
(b) Draw labelled ray diagrams to show the image formation in each case.
(c) How will the following be affected on cutting this lens into two halves along the principal axis ?
(i) Focal length, (ii) Intensity of the image formed by half lens

OR

- (a) For the given data showing object distance and focal length of three concave mirrors, answer the following questions : 1+1+2+1

S No	object distance (cm)	focal length (cm)
1	30	20
2	10	15
3	20	10

- (i) Out of the three in which case the mirror will form the image having same size as the object ?
(ii) Which mirror is being used as a make - up mirror ?
(iii) Draw the ray diagrams for part (i) and part (ii)
(b) No matter how far you stand from a mirror, your image always appears erect and diminished. Identify the type of mirror.
25. (a) A compound X having formula $C_2H_4O_2$ when treated with Ethanol and a few drops of conc. H_2SO_4 forms a sweet smelling Substance Y. Name X and Y. Write the equation of the reaction leading to the formation of Y from X. What is the function of conc. H_2SO_4 in the above reaction ? 3+2
(b) Why do soaps form scum instead of lather in hard water ?

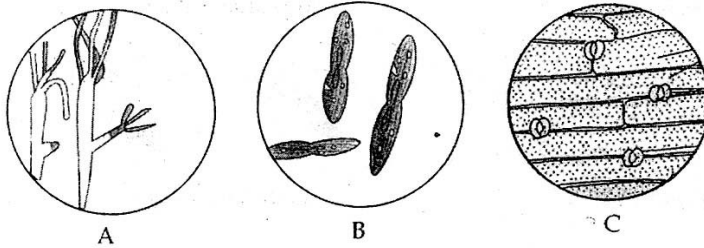
OR

- (a) Name the main product formed when : 3+2
(i) Ethanoic Acid is treated with Sodium Bicarbonate.
(ii) Ethanol is heated with Alkaline $KMnO_4$ Solution
(iii) Ethyl Ethanoate is treated with NaOH solution
Also write the chemical equation for each of the above reactions.

SECTION - B

26. The slide of budding in yeast is represented by :

1



- (a) A (b) B (c) C (d) none of these

27. Binary fission in Amoeba is depicted by :

1



- (a) A (b) B (c) C (d) D

28. Students A, B and C took raisins of equal weights. The raisins were soaked in water at room temperature. A removed raisins after 15 minutes, B after two hours and C after 45 minutes.

1

If $P(A)$, $P(B)$ and $P(C)$ denote the percentage of water absorbed by raisins respectively, then :-

- (a) $P(A) > P(B) > P(C)$ (b) $P(A) < P(B) < P(C)$
 (c) $P(B) > P(C) > P(A)$ (d) $P(A) = P(B) = P(C)$


29. To determine the percentage of water absorbed by raisins before final weighing of the raisins after being kept dipped in water for about 90 minutes extra water from the soaked raisins is removed by :

1

- (a) hot air blower (b) dry cotton
 (c) cotton cloth (d) filter paper

30. A student was given four slides (A), (B), (C) and (D) where details are shown below.

1



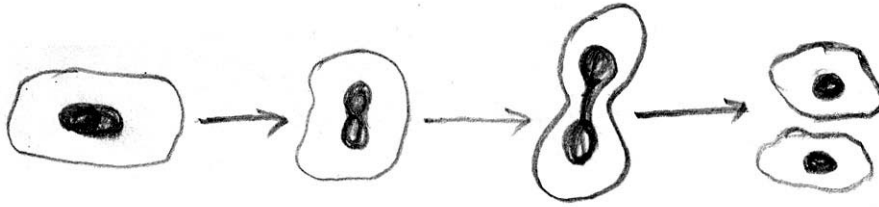
For observing budding in yeast he should place under the microscope the slide marked :

- (a) A (b) B (c) C (d) D

31. The process represented in the diagram given below is _____

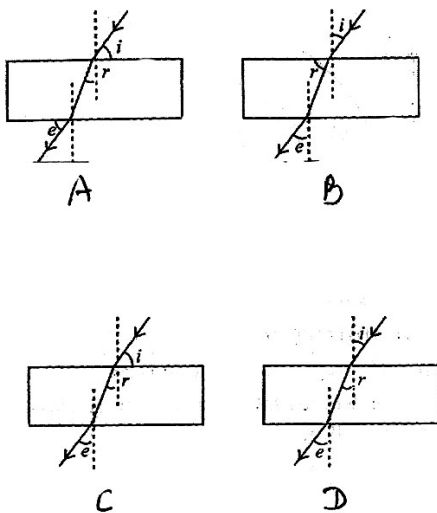
1

- (a) formation of bud taking place in the yeast
- (b) formation of spores in yeast
- (c) formation of daughter cells in amoeba
- (d) two identical gametes being formed in amoeba



32. A student has to perform an experiment on tracing the path of a ray of light passing through a rectangular glass slab for different angles of incidence. He can get a correct measure of the angle of incidence and the angle of emergence by following the labelling indicated in figure

1



- (a) A
- (b) B
- (c) C
- (d) D

33. In an experiment to trace the path of a ray of light passing through a rectangular glass slab, four students A, B, C and D tabulated their observation as given below

1

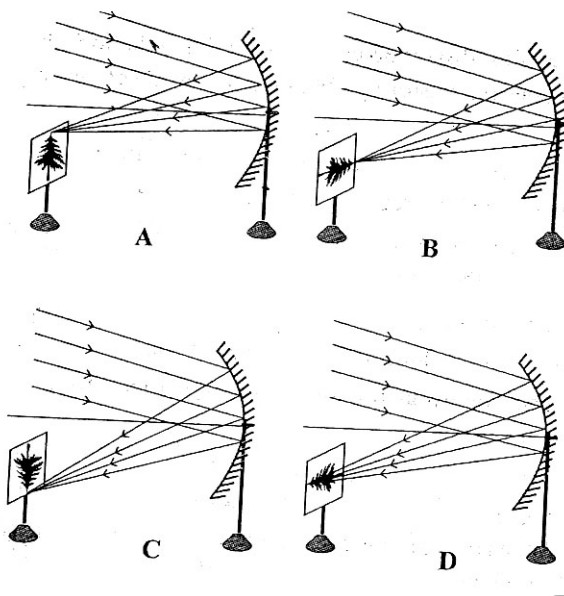
Student	A	B	C	D
$\angle i$	30°	30°	30°	30°
$\angle r$	17°	25°	19°	20°
$\angle e$	32°	30°	30°	34°

Which student performed the experiment sincerely and methodically ?

- (a) A
- (b) B
- (c) C
- (d) D

34. A student while tracing the path of a ray of light through a glass slab must take the precautions. 1
- (i) Range of incident angle should be $30^\circ - 60^\circ$
 - (ii) The eye must be in line with the feet of the pins
 - (iii) The pins used must have sharp point and stand vertically on the board
 - (iv) Distance between two pins must be nearly 8 cm.
- (a) I and II (b) II and III
(c) II, III and IV (d) All of these

35. Parallel rays, from the top of a distant tree, incident on a concave mirror, form an image on the screen. The correct diagram showing the image is : 1



- (a) A (b) B (c) C (d) D

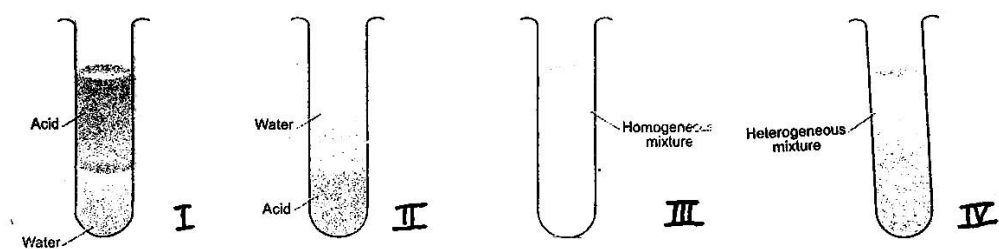
36. Three students measured the focal length of a convex lens using parallel rays from a distant object. All of them measure the distance between the lens and the inverted image on the screen. While shifting the lens slowly towards the object Student A saw a sharp image on the screen and labelled the distance as f_1 . Student B saw a slightly larger blurred image on the screen and labelled the distance as f_2 .

Student C saw a still larger blurred image on the screen and labelled the distance as f_3 .

The relation likely to be is :

- (a) $f_1 = f_2 = f_3$
- (b) $f_1 < f_2$ and f_3
- (c) $f_3 > f_2 > f_1$
- (d) $f_1 < f_2$ and $f_1 = f_3$

37. A student puts an iron nail in four test tubes containing solutions of zinc sulphate, aluminium sulphate, copper sulphate and iron sulphate. A reddish brown coating was observed only on the surface of iron nail which was put in the solution of : 1
- (a) zinc sulphate (b) iron sulphate
(c) copper sulphate (d) aluminium sulphate
38. 10ml of freshly prepared iron sulphate was taken in each of four test tubes. Strips of copper, iron, zinc and aluminium were put in these test tubes. A black residue was obtained in two of them. The right pair of metals forming the black residue are : 1
- (a) Cu and Zn (b) Al and Cu
(c) Fe and Al (d) Zn and Al
39. 5ml each of acetic acid and water are mixed together and shaken well. 1



The resulting mixture after standing for some time would appear as :

- (a) I (b) II (c) III (d) IV
40. When sodium bicarbonate is added to acetic acid, a gas evolves. Which one of the following statements is not true for this gas ? It : 1
- (a) turns lime water milky
(b) extinguishes burning splinter
(c) burns explosively
(d) dissolves sparingly in water.
41. When blue litmus is added to a solution of acetic acid, it turns red. When excess of NaOH is added to the above solution, it will be observed that the mixture : 1
- (a) remains red
(b) becomes colourless
(c) turns blue
(d) turns green

- o o o -

भाग - अ

1. रवाघ श्रृंखला ये उर्जा प्रवाह एक दिशिक क्यों होता हैं? 1
2. पुष्टि कीजिए लिफाफों का उपयोग प्लास्टिक की थैलियों से अधिक पर्यावरण - मित्र - बनाने में हो सकता हैं। 1
3. मानव नेत्र में पुतलो का क्या कार्य है? 1
4. प्रोपेनान, CH_3COCH_3 ये उपथित क्रियात्मक समूह का नाम लिखिए। 1
5. (अ) कोयले एवं पेट्रोलियम का निर्माण कैसे होता है? 2
(ब) जीवाश्म ईंधन जलने पर उत्पन्न दो उत्पादों के नाम लिखिए।
6. हम व्यक्तिगत रूप से जीवाश्म ईंधन के उपयोग को कैसे कम कर सकते हैं दो सुझाव दीजिए। 2
7. दो उदाहरण देकर स्पष्ट कीजिए कि स्थानीय लोग वन संरक्षण करने में किस प्रकार सहायक होते हैं। 2
8. कुछ महिलाओं द्वारा कापर T उपयोग के दो लाभ लिखिए 2
9. प्रकाश की किरण मिट्टी के तेल में प्रवेश करती है मिट्टी के तेल में प्रकाश की चाल ज्ञात करें। (मिट्टी के तेल का अपवर्तनांक 1.47 तथा) वायु में प्रकाश की चाल 3.0×10^8 मी. से. है 2
10. श्वेत प्रकाश के प्रिजम में से गुजारने पर सात रंग क्यों दिखाई देते हैं? श्वेत प्रकार का कौन सा घटक सबसे कम मुडता है? 2
11. एक व्यक्ति को अपनी दूर दृष्टि के लिये - 0.5 डाइआप्टर क्षमता के लेंस की आवश्यकता पडती है तथा निकट दृष्टि के लिये +1.5 D लेंस की। उसके द्वारा उपयोग में लाने वाले लेंसों की फोकस दूरी क्या है 2
(i) दूर दृष्टि के लिये (ii) निकट दृष्टि के लिये?
12. कारण लिखिए : 2
(अ) लिथियम का परमाणु सोडियम के परमाणु से छोटा हैं।
(ब) क्लोरीन (परमाणु संख्या 17) सल्फर (प. संख्या 16) से अधिक वैधुत ऋणात्मक हैं।
13. (अ) आधुनिक आर्वत नियम क्या है? 2
(ब) आर्वत सारणी में उपधातुओं को कहाँ पर रखा गया है?
14. एक पौधे में जिसको लाल भूरे रंग के पुष्प है जनकीय लक्षण PP तथा सफेद फूल में जनकीय लक्षण pp है दोनों का संकरण करने पर : 3
(अ) F1 पीढी में किस रंग के फूल आयेगे?
(ब) सफेद फूलों का प्रतिशत ज्ञातकरें जब F1 पीढी स्वतः परागित हो।
(स) F2 पीढी में PP और pp के जनकीय लक्षणों का अनुपात क्या होगा? अपने उत्तर की पुष्टि के लिये प्रवाहचित्र खींचो।

15. (अ) जीवाश्म क्या है ? 3
(ब) तितली के पंख और चमगादड़ के पंख समरूप अंग हैं या संमजात अंग ? अपने उत्तर की पुष्टि कीजिए
16. नवजात शिशु के लिंग निर्धारण में माता व पिता का क्या योगदान है दृष्टान्तचित्र द्वारा समझाइये। 3
17. (अ) निम्नलिखित में अलैंगिक प्रजनन को पहचानिए : 3
(i) गुलाब (ii) यीस्ट (iii) प्लेनेरिया
(ब) खंडन वन्या हैं? एक बहुकोशीय जीव का नाम लिखिए जो इस विधि द्वारा प्रजनन करता है।
18. कोई 5.00 से. मी. लम्बा बिम्ब 10 से. मी. फोकस दूरी के उत्तल लेंस के मुख्य अक्ष पर लम्बवत रखा गया है। 3
बिम्ब की लेंस से दूरी 30 से. मी. है। प्रतिबिम्ब की स्थिति तथा आकार ज्ञात कीजिए।
19. कोई बच्चा अपनी पुस्तक को आराम से पढ़ लेता है परन्तु श्यामपट्ट पर लिखे को नहीं पढ़ सकता। 3
(अ) बच्चा किस प्रकार के दृष्टि दोष से पीड़ित है?
(ब) नायांकित रेखांकित की सहायता से दर्शाइयें
(i) दोष युक्त नेत्र
(ii) दोष का संशोधन (संशोधितलेंस उपयोग करने पर)
20. (अ) प्रकाश की किरण अवतल दर्पण के वक्रता केन्द्र से गुजरकर अपवर्तन के पश्चात् उसीपथ से वापिस क्यों 3
आती है?
(ब) उत्तल दर्पणों का उपयोग बाहनों के पश्च-दृश्य देखने में क्यों किया जाता है?
(स) पानी में आंशिक रूप से डूबी पेंसिल का मुड़े हुए दिखायी देना कौन सी परिघटना है?
21. तीन तत्व A, B और C जिनकी परमाणु संख्या 7, 8 और 9 हैं 3
(अ) आर्वात सारणी के समूह और आर्वात दोनो में कहाँ स्थित है?
(ब) A, B और C को उनके घटते हुए आकार में व्यवस्थित करें।
(स) तीनों में कौन सा तत्व सबसे अधिक क्रियाशील है और क्यों?
22. (अ) इलेक्ट्रान बिन्दु संरचना बनाइयें 3
(i) C_2H_2 की। (ii) C_2H_5OH की।
(ब) हाइड्रोजनीकरण क्या है एक उदाहरण दीजिए।
23. (अ) अंकुरण और निषेचन में अन्तर लिखिए। 5
(ब) मानव के नर जनन तंत्र में निम्न अंगों का कार्य संक्षेप में लिखिए।
(i) वृषण कोश (ii) वृषण (iii) शुक्रवाहिनी
- या**
- (अ) परागकण और बीजांड में अन्तर लिखिए। 5
(ब) मानव के मादा जनन तंत्र में निम्न अंगों का कार्य लिखिए :
(i) अंडाशय (ii) अंडवाहिका (iii) गर्भाशय

24. एक पतला अभिसारी लेंस वस्तु को सामने रखने पर 5
- (i) वास्तविक, आवर्धित प्रतिबिम्ब तथा
(ii) आभासी आवर्धित प्रतिबिम्ब बनाता है
(अ) प्रत्येक दशा ये वस्तु की स्थिति क्या हैं?
(ब) प्रत्येक का रेखाचित्र खींचकर प्रतिबिम्ब का बनना दर्शाइये।
(स) निम्नलिखित पर क्या प्रभाव पड़ेगा जब इस लेंस को मुख्य अक्ष से दो भागों में विभक्त कर दिया जाए
(i) फोकस दूरी? (ii) आधे लेंस द्वारा बनने वाले प्रतिबिम्ब की सुस्पष्टता?

या

- (अ) दिये गए आंकड़े तीन अवतल दर्पणों से वस्तु की दूरी तथा उनकी फोकस दूरी दर्शाती है 5
- | क्र.संख्या | वस्तु की दूरी (से. मी.) | फोकस दूरी (से. मी.) |
|------------|-------------------------|---------------------|
| 1 | 30 | 20 |
| 2 | 10 | 15 |
| 3 | 20 | 10 |

निम्न लिखित के उत्तर दीजिए

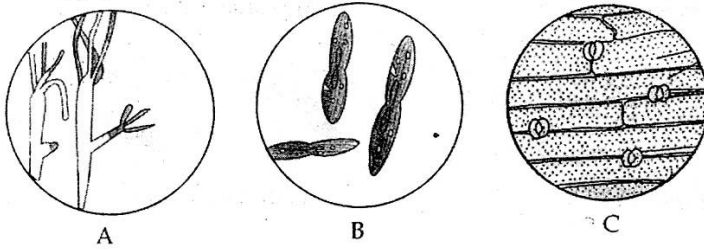
- (i) तीनों में से किस दर्पण द्वारा वस्तु के समान आकार का प्रतिबिम्ब बनेगा?
(ii) कौन सा दर्पण मेक अप के लिये उपयोग होता है?
(iii) भाग (i) और (ii) के लिए रेखाचित्र खींचिए
(ब) वह दर्पण जिससे हमेशा सीधा एवं बहुत छोटे आकार का प्रतिबिम्ब बनता है, कौन सा है?
25. (अ) एक यौजिक X जिसका सूत्र $C_2H_4O_2$ है एथनाल और सान्द्र H_2SO_4 के साथ मृदुगंध युक्त Y पदार्थ 5
बनाता है X और Y का नाम लिखें। X से Y बनने वाली अभिक्रिया को लिखिए सान्द्र H_2SO_4 का इस अभिक्रिया में क्या कार्य है?
(ब) साबुन कठोर पानी के साथ झाग के स्थान पर स्कम क्यों बनाता है?

या

- (अ) मुख्य उत्पाद का नाम लिखिए जब 5
- (i) एथनाइक अम्ल सोडियम बाइकार्बोनेट से क्रिया करता है।
(ii) एथनाल क्षारीय $KMnO_4$ विलयन के साथ गर्म किया जाता है।
(iii) एथाइल एथनोएट $NaOH$ विलयन के साथ क्रिया करता है।
उपरोक्त अभिक्रियाओं की रासायनिक समीकरण भी लिखें
(ब) समजातीय श्रेणीय से क्या अभिप्राय है इसके दो गुण लिखिए।

भाग - ब

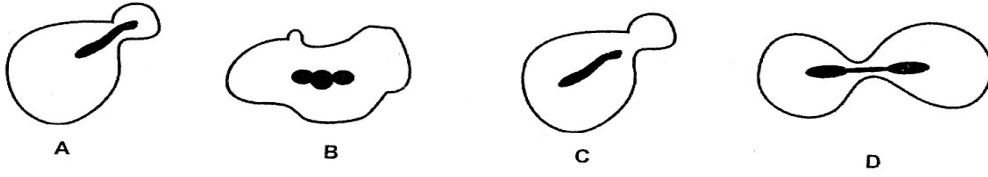
26. यीस्ट में मुकुलन की स्लाइड हैं 1



- (अ) A (ब) B (स) C (द) कोई नहीं

27. अमीबा में द्विखंडन दर्शाता हैं

1



(अ) A (ब) B (स) C (द) D

28. A, B, C तीन विद्यार्थियों ने समान भार की किशमिशो को लेकर पानी में कमरे के ताप पर रखा A ने किशमिशो का 15 मिनट बाद B ने दो घंटों बाद और C ने 45 मिनट बाद पानी से बाहर निकाला यदि किशमिशो की जल अवशोषित प्रतिशत मात्रा क्रमशः

1

P (A), P (B) और P (C) हैं तब

(अ) $P(A) > P(B) > P(C)$ (ब) $P(A) < P(B) < P(C)$
 (स) $P(B) > P(C) > P(A)$ (द) $P(A) = P(B) = P(C)$


29. किशमिशो द्वारा जल की अवशोषित प्रतिशत मात्रा ज्ञात करने के लिये किशमिशो को 30°C ताप पर 90 मिनट तक भिगोए रखा, भिगोई गई किशमिशो से अतिरिक्त जल की मात्रा अलग की जाएगी

1

(अ) गर्महवा के झोके से। (ब) सुखी रूई से।
 (स) सूती कपडे से। (द) फिल्टर पेपर से।

30. एक विद्यार्थी को चार स्लाइड (A) (B) (C) और (D) जिनका वर्णन नीचे दर्शाया गया हैं, दी गयी सूक्ष्मदर्शों में से यीस्ट में सुकुलन का प्रेक्षण करने के लिये वह कौन सी स्लाइड उपयोग करेगा -

1

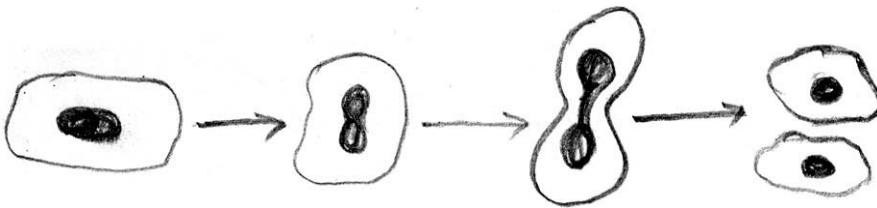


(अ) A (ब) B (स) C (द) D

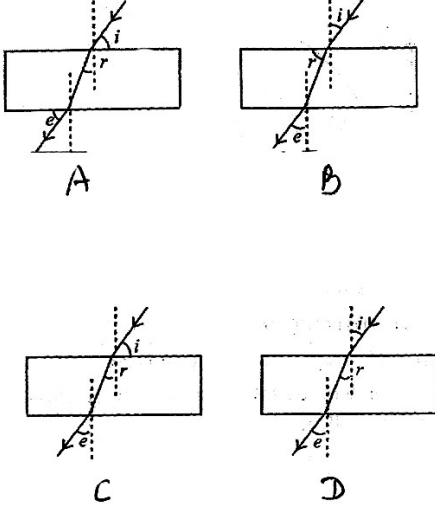
31. आरेख में कौन सा प्रक्रम दिखाया गया है?

1

(अ) यीस्ट से मुकुल का बनना।
 (ब) मीस्ट में बीजाणु का बनना।
 (स) अमीबा में दो संतति कोशा का बनना।
 (द) अमीबा में दो समान युग्म को बनना। कौन सा चित्र सही है?



32. कोई विद्यार्थी वायु में रखे काँच के गुटके से होकर प्रकाश की किरण का प्रयोग भिन्न आपतन कोणों के साथ करता है उनके द्वारा आपतन कोण तथा निर्गमन कोण का सही मापन किस चित्र द्वारा किया जा सकता है? 1



- (अ) A (ब) B (स) C (द) D

33. किसी प्रयोग में आयताकार काँच के गुटके से होकर किरण के पथ को आरेखित करने के लिये चार विद्यार्थियों A, B, C और D ने निम्न लिखित प्रक्षेप तालिका में अंकित किये। 1

Student	A	B	C	D
$\angle i$	30°	30°	30°	30°
$\angle r$	17°	25°	19°	20°
$\angle e$	32°	30°	30°	34°

किस विद्यार्थी द्वारा प्रेक्षण सही लिये गये ?

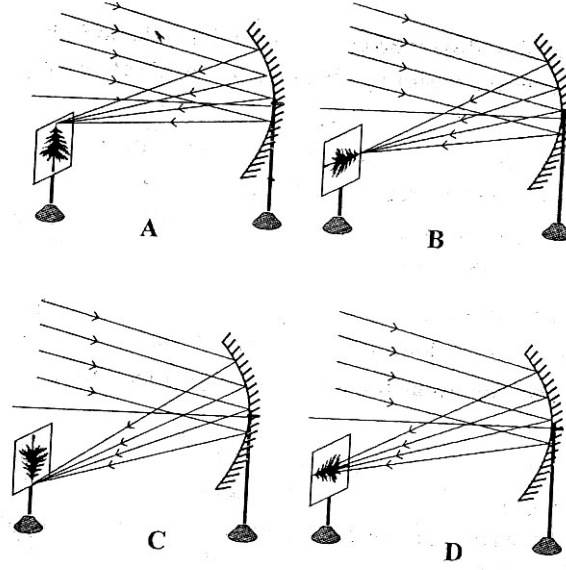
- (अ) A (ब) B (स) C (द) D

34. किसी विद्यार्थी द्वारा आयताकार काँच के गुटके से होकर किरण पथ को आरेखित करने के लिये कौन कौन सी सावधानियाँ रखनी चाहिए? 1

- आपतन कोण $30^\circ - 60^\circ$ के बीच होना चाहिए।
- आँख का फोकस पिन की नोक पर होना चाहिए।
- आलपिन त्रिवर्तन नोक वाले तथा बोर्ड पर सीधी खड़ी रहनी चाहिए।
- दो पिनो के बीच की दूरी लगभग 8 cm होनी चाहिए।

- (अ) I और II (ब) II और III
(स) II, III और IV (द) उपरोक्त सभी

35. किसी दूर स्थित पेड़ से समानांतर किरणों आकर अवतल दर्पण से पर्देपर प्रतिबिम्ब बनाती हैं। प्रतिबिम्ब को दर्शाने के लिये सही चित्र हैं - 1



- (अ) A (ब) B (स) C (द) D

36. दूर स्थित बिम्ब से आने वाली समानान्तर किरणों का उपयोग करके तीन विद्यार्थी A, B और C उत्तल लेंस की कोकस दूरी मापते हैं। सभी विद्यार्थी लेंस को धीरे-धीरे बिम्ब की ओर लानेपर लेंस और पर्दे पर बने उल्टे प्रतिबिम्ब की फोकस दूरी मापते हैं। 1

- (A) विद्यार्थी ने पर्दे पर सुस्पष्ट प्रतिबिम्ब देखा तथा दूरी को F_1 अंकित किया
 (B) विद्यार्थी ने थोड़ा सा धूधला एवं बड़ा प्रतिबिम्ब देखा तथा दूरी को F_2 अंकित किया
 (C) विद्यार्थी ने अधिक बड़ा एवं धुधला प्रतिबिम्ब देखा तथा दूरी को F_3 अंकित किया
 संबंध होना चाहिए

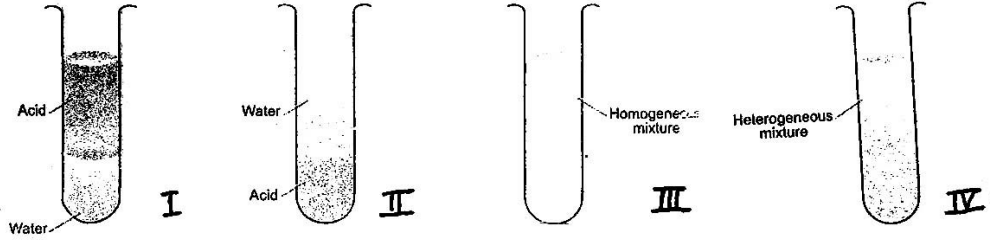
- (अ) $F_1 = F_2 = F_3$
 (ब) $F_1 < F_2$ और F_3
 (स) $F_3 > F_2 > F_1$
 (द) $F_1 < F_2$ और $F_1 = F_3$

37. एक विद्यार्थी ने चार परखनलियों में जिनमें जिंक सल्फेट, ऐलुमिनियम सल्फेट, कापर सल्फेट और आयरन सल्फेट का विलयन रखा है, कुछ लौहे की कीले डाली। कीलों पर लाल भूरे रंग की जमी परत वाली परखनली होगी, जिसमें विलयन है 1

- (अ) जिंक सल्फेट का (ब) आयरन सल्फेट का
 (स) कापर सल्फेट का (द) ऐलुमिनियम सल्फेट का

38. चार परखनलियों में अलग-अलग आयरन सल्फेट का 10 मि. ली. ताजा विलयन लिया गया। इन परखनलियों में क्रमश तौंबे, लौहे, जिंक तथा ऐलुमिनिय धातु की पत्तियाँ डाली गई। इनमे से दो परखनलियों में काला अवशेष प्राप्त हुआ। वे दो धातुएँ जिनके द्वारा अवशेष प्राप्त हुआ, इस प्रकार है :
- (अ) तौंबा तथा जिंक (ब) ऐलुमिनियम तथा तौंबा
(स) लोहा तथा ऐलुमिनियम (द) जिंक तथा ऐलुमिनियम

39. 5 मि. ली. ऐसीटिक अम्ल और 5 मि. ली. पानी को लेकर एक साथ मिलाया



कुछ समय पश्चात मिश्रण को किस चित्र के अनुसार निरूपित किया जा सकता है ?

- (अ) I (ब) II (स) III (द) IV
40. सोडियमबाईकार्बोनेट को ऐसीटिक अम्ल में मिलानेपर निकलनेवाली गैस के संदर्भ में कौन सा कथन सही नही है?
- (अ) चूने के पानी को दूधिया कर देती है।
(ब) जलती हुई तिल्ली बूझ जाती है।
(स) तेजी से जलने लगती है।
(द) पानी में आंशिक रूप से धुलनशील है।
41. नीले लिटमस को ऐसीटिक अम्ल में डालनेपर यह लाल रंग का हो जाता है जब उपरोक्त विलयन में NaOH की अधिक मात्रा डाली जाती है तब मिश्रण कैसा दिखाई देगा ?
- (अ) लाल ही रहेगा। (ब) रंगहीन हो जायेगा। (स) नीला हो जायेगा। (द) हरा हो जायेगा।

- o 0 o -